

第1课时 十几减9(1)

同步练习

- liè yi liè suàn yi suàn
1. 列一列，算一算。



$$(\quad) - (\quad) = (\quad)$$

$$(\quad) - (\quad) = (\quad)$$

- xiǎng yi xiǎng suàn yi suàn
2. 想一想，算一算。

(1) $15 - 9 = (\quad)$ ，想：9 加 (\quad) 等于 15，15 减 9 等于 (\quad) 。

试用此方法解答下面的问题。

(2) $11 - 9 =$

$12 - 9 =$

$16 - 9 =$

$2 + 9 =$

$3 + 9 =$

$7 + 9 =$

$13 - 9 =$

$4 + 9 =$

- suàn yi suàn tú yi tú dé shù shì jǐ jiù jiāng jǐ gè tú àn tú shàng nǐ xǐ huān de yán sè
3. 算一算，涂一涂。(得数是几就将几个图案涂上你喜欢的颜色)

(1) $18 - 9 = \square$



(2) $17 - 9 = \square$



- shèng dàn jié dào le shèng dàn lǎo rén yào gěi měi gè xiǎo péng yǒu zèng sòng yí fèn
4. 圣诞节到了，圣诞老人要给每个小朋友赠送一份
lǐ wù hái chà jǐ fèn lǐ wù
礼物，还差几份礼物？



$$\square \bigcirc \square = \square \text{ (份)}$$

答：还差_____份礼物。

试题精选

- xiǎng yi xiǎng zài kuò hào lǐ tián shàng hé shì de shù
5. 想一想，在括号里填上合适的数。

= 9

= 7

= 5

+ - = ()

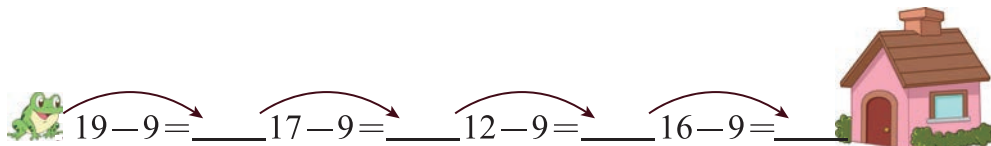
$18 - \text{bee} = \text{fox} + \text{car} - (\quad)$

第2课时 十几减9(2)

同步练习

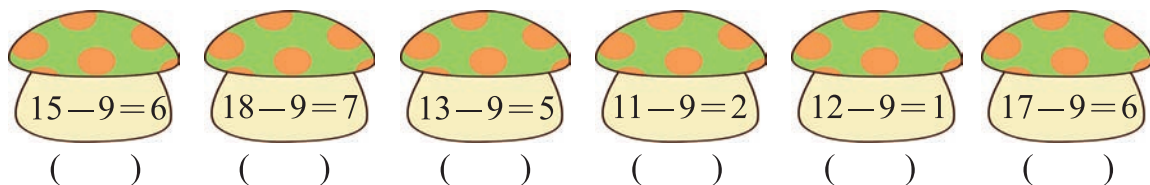
xiǎo qīng wā huí jiā

1. 小青蛙回家。



tóng xué men suàn yí suàn nǎ gè shì dú mó gu jì suàn zhèng què de dǎ

2. 同学们算一算, 哪个是毒蘑菇? (计算正确的打“√”, 错误的打“×”)



quān yì quān bìng liè chū jiǎn fǎ suàn shì jì suàn

3. 圈一圈, 并列减法算式计算。

(1)  $\square \bigcirc 9 = \square$ (只)

(2)  $\square \bigcirc 9 = \square$ (只)

4. 合唱团一年级小组共有14人, 其中有女生9人, 则男生人数为多少人?

$\square \bigcirc \square = \square$ (人)

答: 男生人数为_____人。



试题精选

5. 一辆面包车可以搭载7名乘客, 现在有9名乘客乘车出行, 至少需要多少辆面包车? 还剩下多少个座位?



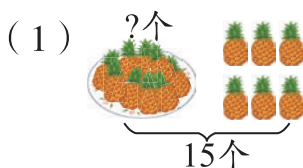
答: 需要_____辆面包车。还剩下_____个座位。

第3课时 十几减8、7、6(1)


同步练习

wǒ huì liè shì jì suàn

1. 我会列式计算。



$$\square \bigcirc \square = \square \text{ (个)}$$



$$\square \bigcirc \square = \square \text{ (只)}$$

2. 老师手中有白色的花6朵，红色的花16朵，黄色的花8朵，则()列出算式为16-8。

请你选一选，括号里应该填什么？在正确的后面的括号里画“△”。

- (1) 红花比黄花多多少朵？() (2) 红花和黄花一共有多少朵？()
(3) 白花比黄花少多少朵？()

qǐng nǐ zài kuò hào lǐ tián shàng

3. 请在括号里填上“>”“<”或“=”。

$$2+8 \text{ () } 17-8 \quad 15+4 \text{ () } 13-6 \quad 17-8 \text{ () } 9+7$$

4. 某校一年级组织学生去植树，若每人一把铲子，还差几把？

$$\square \bigcirc \square = \square \text{ (把)}$$

答：还差_____把。



试题精选

5. 有12朵玫瑰花，分别插在两个瓶子里，如果一个瓶子里插8朵，另一个瓶子里插多少朵？若要两个瓶子插的数量一样，则需要从第一个瓶子里拿出多少朵插到第二个瓶子里？

$$\square \bigcirc \square = \square \text{ (朵)} \quad \square \bigcirc \square = \square \text{ (朵)} \quad \square \bigcirc \square = \square \text{ (朵)}$$

答：另一个瓶子里插_____朵，需要从第一个瓶子里拿出_____朵插到第二个瓶子里。

第4课时 十几减8、7、6(2)

同步练习

xiǎng yi xiǎng tián yi tián

1. 想一想，填一填。

(1) $15-8=?$ 想：8加()等于15，所以15减8等于()；

(2) $12-7=?$ 想：7加()等于12，所以12减7等于()。

zài kuò hào lǐ tián shàng

2. 在括号里填上“>”“<”或“=”。

huò

$15-9()6$

$16-8()4$

$17-9()19-10$

$17-7()5$

$12-6()6$

$12-7()13-9$

xìn gē sòng xìn

lián yi lián

3. 信鸽送信。(连一连)



$16-7$



$14-6$



$16-9$



$14-8$



$18-10$



$17-8$



$14-7$



$15-9$

4. 道旁有两棵树，左边的树上有7只小鸟，右边的树上有6只小鸟。左边的树上飞走了几只，右边的也飞走了几只，两棵树上还剩下8只小鸟，则一共飞走了多少只？

$\square \bigcirc \square = \square \text{ (只)}$

$\square \bigcirc \square = \square \text{ (只)}$

答：一共飞走了____只。

qǐng nǐ yí dòng yì gēn huǒ chái

shǐ děng shì yī rán chéng lì

5. 请你移动一根火柴，使等式依然成立。

$12-9=9-6$

试题精选

kàn tú tián kòng

6. 看图填空。

$\text{白菜} = 8$

$\text{蘑菇} = 7$

$\text{菠萝} = 9$

$13 - \text{菠萝} = \underline{\hspace{2cm}}$

$\text{菠萝} + \text{蘑菇} - \text{白菜} = \underline{\hspace{2cm}}$

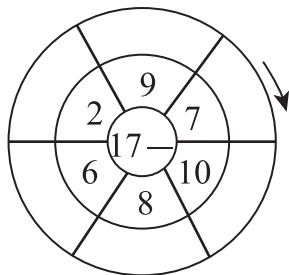
$\text{菠萝} - \text{蘑菇} + \text{白菜} = \underline{\hspace{2cm}}$

$\text{白菜} + \text{蘑菇} - \text{菠萝} = \underline{\hspace{2cm}}$

第5课时 练习课（第3、4课时）

同步练习

suàn yì suàn tián yì tián cóng kāi shǐ yī cì jì suàn
1. 算一算，填一填。（从17-7开始依次计算）



zài lǐ tián shàng huò
2. 在 里填上 “>” “<” 或 “=”。

$12-6 \bigcirc 6$

$15-8 \bigcirc 9$


$18-9 \bigcirc 8$

$14-8 \bigcirc 5$

$13-9 \bigcirc 5$

$16-7 \bigcirc 9$

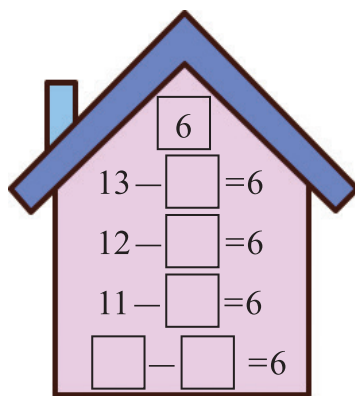
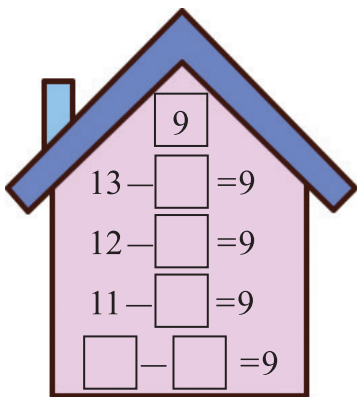
kàn tú liè suàn shì jì suàn
3. 看图列算式计算。




$\square \bigcirc \square = \square \text{ (只)}$

$\square \bigcirc \square = \square \text{ (个)}$

jiàn fáng zi
4. 建房子。



qǐng nǐ àn zhào guī lǜ tián yì tián
5. 请你按照规律填一填。



- gōng jiāo chē shàng yí gòng yǒu míng chéng kè dào zhàn hòu xià qu míng chéng
6. 公交车上 一共有14名乘客，到站后下去8名乘客，
kè yòu shàng lái míng chéng kè gōng jiāo chē shàng cǐ shí hái yǒu duō shao míng
客，又上来3名乘客，公交车上此时还有多少名
chéng kè
乘客？

$$\square \bigcirc \square = \square \text{ (名)} \quad \square \bigcirc \square = \square \text{ (名)}$$

答：公交车上此时还有____名乘客。



- zài lǐ tián shàng hé shì de shù
7. 在 里填上合适的数。

$$9 + \text{🍅} = 12$$

$$7 + \text{🍅} = 15$$

$$6 + \text{🍅} = 14$$

$$\text{🍅} + 7 = 16$$

$$\text{🍅} + 2 = 11$$

$$6 + \text{🍅} = 13$$

$$\text{🍅} + 9 = 16$$

$$\text{🍅} + 8 = 17$$

- měi zhī xiǎo tù zì dōu yào cǎi gè
8. 每只小兔子都要采16个🍄。

我采了9个，还要采几个？



我还要采8个，你猜我已采了几个？

$$\square \bigcirc \square = \square \text{ (个)}$$

$$\square \bigcirc \square = \square \text{ (个)}$$

- xià miàn shì shí yàn xiǎo xué jīn nián zhí shù de kē shù
9. 下面是实验小学今年植树的棵数。

杨树	桃树	杏树
17 棵	9 棵	7 棵

- (1) 杨树比桃树多几棵？

$$\square \bigcirc \square = \square \text{ (棵)}$$

答：杨树比桃树多____棵。

- (2) 请你提出一个加法或一个减法问题并进行解答。

问题：_____

解答：_____

试题精选

- píng guǒ shù shàng yǒu gè píng guǒ míng míng cǎi zhāi le yì xiē hòu
10. 苹果树上有15个苹果，明明采摘了一些后，
fāng fāng yòu cǎi zhāi le yì xiē fāng fāng bǐ míng míng shǎo zhāi le 1 gè zuì hòu
芳芳又采摘了一些，芳芳比明明少摘了1个，最后
píng guǒ shù shàng hái shèng xià le 8 gè fāng fāng zhāi le duō shǎo gè píng guǒ
苹果树上还剩下了8个。芳芳摘了多少个苹果？

$$\square \bigcirc \square = \square \text{ (个)} \quad \square \bigcirc \square = \square \text{ (个)} \quad \square \bigcirc \square = \square \text{ (个)}$$

答：芳芳摘了____个苹果。

第6课时 十几减5、4、3、2(1)

同步练习

suàn yì suàn

1. 算一算。

$12-4=$

$13-5=$

$11-2=$

$14-7=$

$13-4=$


$17-3=$


$16-5=$


$17-4=$


zhǎo péng you bǎ dé shù xiāng tóng de suàn shì lián qǐ lái


2. 找朋友,把得数相同的算式连起来。



 $11-5$



 $11-4$



 $13-8$



 $12-3$



 $12-9$


 $15-10$


 $14-8$


 $15-8$


 $11-8$


 $16-7$

3. 在 里填上 “>” “<” 或 “=”。

$15-8$  9

$12-4$  9

$7+6$  15

$13-6$  7

$12-5$  6

$18-9$  7

$5+8$  11

$16-7$  9

4. 体育用品店有一张物品清单,请你填一填。

	篮球	毽子	跳绳	排球
原有	14个		13根	17个
卖了		7个	5根	
还剩	6个	9个		9个

试题精选

5. 草地上有12头大牛和5头小牛在吃草。又来了一群羊,白羊有8头,黑羊有9头。

(1) 牛和羊的数量相比哪个多?

$\square \bigcirc \square = \square$ (头)

$\square \bigcirc \square = \square$ (头)

答:牛和羊的数量,_____。

(2) 大牛比小牛多多少头?

$\square \bigcirc \square = \square$ (头)

答:大牛比小牛多_____头。

(3) 大牛比黑羊多多少头?

$\square \bigcirc \square = \square$ (头)

答：大牛比黑羊多____头。

第7课时 十几减5、4、3、2(2)

同步练习

1. 看一看，列一列。(请你根据题中给的图片，列出四道算式)




$$\square \bigcirc \square = \square \text{ (个)}$$

$$\square \bigcirc \square = \square \text{ (个)}$$

$$\square \bigcirc \square = \square \text{ (个)}$$

$$\square \bigcirc \square = \square \text{ (个)}$$

2. 看谁先过河。



3. 送信。(连一连)



试题精选

4. 贝贝有13本课外书，12个笔记本，课外书中有5本是故事书，那么其他种类的课外书有多少本？

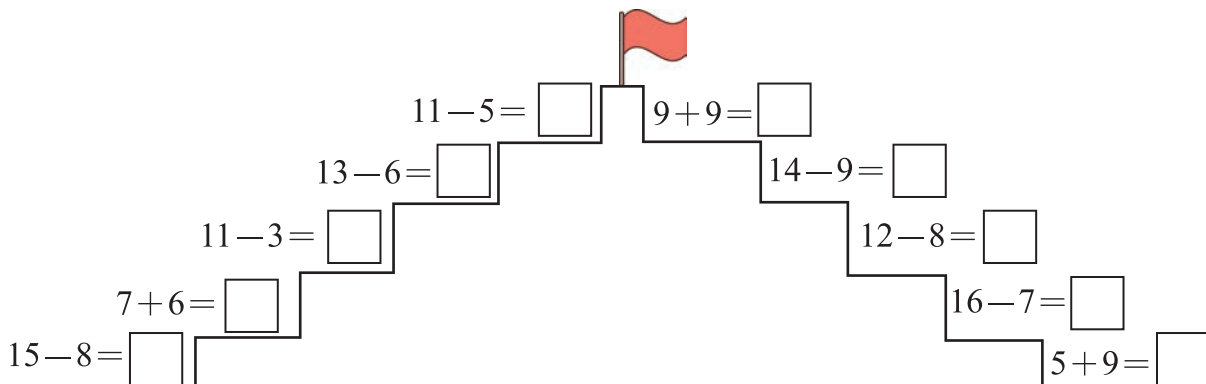
$$\square \bigcirc \square = \square \text{ (本)}$$

答：其他种类的课外书有____本。

第8课时 解决问题(1)

同步练习

duó hóng qí
1. 夺红旗。



hǎi hai yǒu yuán qián tā xiǎng mǎi yì běn yuán de màn huà shū zé tā hái xū duō
2. 海海有8元钱,他想买一本12元的漫画书,则他还需多
shao qián cái néng mǎi dào
少钱才能买到?

$$\square \bigcirc \square = \square (\text{元})$$

答: 他还需____元才能买到。

shōu yù mǐ
3. 收玉米。

小牛比小马多收了多少根玉米?

$$\square \bigcirc \square = \square (\text{根})$$

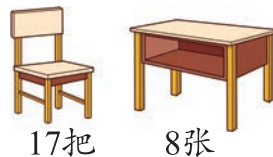
答: 小牛比小马多收了____根玉米。



rú guǒ yì zhāng kè zhuō pèi yì bǎ yǐ zi zé xiàn zài hái quē duō shao zhāng zhuō zi
4. 如果一张课桌配一把椅子,则现在还缺多少张桌子?

$$\square \bigcirc \square = \square (\text{张})$$

答: 现在还缺____张桌子。



试题精选

hé chàng tuán yì gòng fēn chéng liǎng gè duì wu qí zhōng nán shēng duì yǒu rén
5. 合唱团一共分成两个队伍。其中男生队有9人,
nǚ shēng duì yǒu rén nà me nǚ shēng duì zài zēng jiā jǐ rén néng bǐ nán shēng duì duō rén
女生队有8人,那么女生队再增加几人能比男生队多6人?

$$\square \bigcirc \square = \square (\text{人})$$

$$\square \bigcirc \square = \square (\text{人})$$

答: 女生队再增加____人能比男生队多6人。

第9课时 解决问题(2)

同步练习

chāo shì gòu wù

1. 超市购物。

(1) 妈妈买回 16 个梨, 比桃子多 7 个, 桃子有多少个?

$$\square \bigcirc \square = \square \text{ (个)}$$

答: 桃子有____个。

(2) 妈妈买肉花了 14 元, 买菜花了 7 元, 则买肉比买菜多花了多少钱?

$$\square \bigcirc \square = \square \text{ (元)}$$

答: 买肉比买菜多花了____元。

2. 图书馆中一共有 15 本《西游记》, 被学生借走了 8 本, 还剩下多少本?

tú shū guǎn zhōng yí gòng yǒu bēn xī yóu jì bèi xué shēng jiè zǒu le běn

hái shèng xià duō shǎo běn
还剩下多少本?

$$\square \bigcirc \square = \square \text{ (本)}$$

答: 还剩下____本。



3. 如图, 每只鸟宝宝都要吃一条虫子补充营养, 还差几条虫子?

rú tú měi zhī niǎo bǎo bāo dōu yào chī yì tiáo chóng zi bǔ chōng yíng yǎng hái chà

jǐ tiáo chóng zi
几条虫子?



$$\square \bigcirc \square = \square \text{ (条)}$$

答: 还差____条虫子。

试题精选

4. 小勇有 9 本连环画, 小丽有 17 本, 则小丽比小勇多多少本? 小丽借给小勇多少本后, 两人拥有的连环画的数量相同?

xiǎo yǒng yǒu běn lián huán huà xiǎo lì yǒu běn zé xiǎo lì bǐ xiǎo yǒng

duō duō shǎo běn xiǎo lì jiè gěi xiǎo yǒng duō shǎo běn hòu liǎng rén yōng yǒu de lián
多 多 少 本? 小 丽 借 给 小 勇 多 少 本 后, 两 人 拥 有 的 连
huán huà de shù liàng xiāng tóng
环 画 的 数 量 相 同?

$$\square \bigcirc \square = \square \text{ (本)} \quad \square \bigcirc \square = \square \text{ (本)}$$

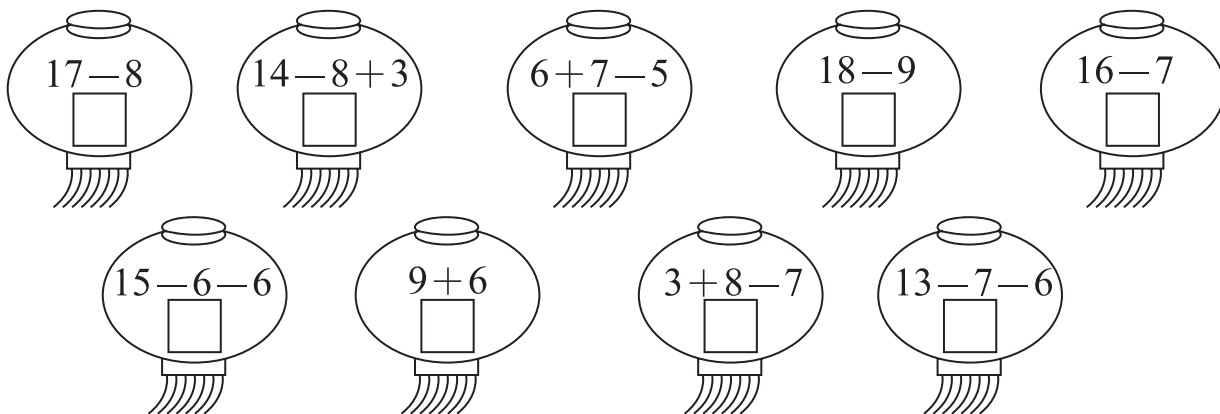
答: 小丽比小勇多____本, 小丽借给小勇____本后, 两人拥有的连环画的数量相同。

第10课时 练习课（第8、9课时）

同步练习

dēng long shàng de shù xué

1. 灯笼上的数学。



kàn tú tián yì tián

2. 看图填一填。



☆有（ ）个；★有（ ）个。

☆比★少（ ）个；列式为：（ ）。

★比☆多（ ）个；列式为：（ ）。

qǐng nǐ jiāng xià miàn suàn shì pǎi yì pǎi

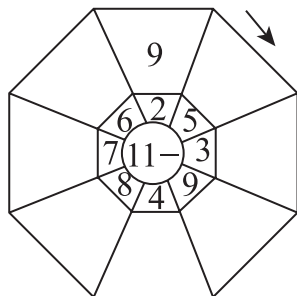
3. 请你将下面算式排一排。



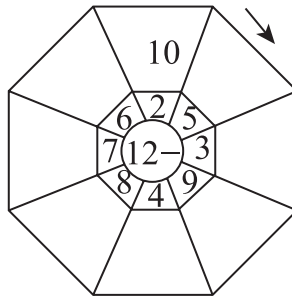
suàn shì zhī zhū wǎng

4. 算式蜘蛛网。

(1)



(2)



- yùn dòng huì shàng xiǎo tù pǎo le mǐ de shí hòu xiǎo xióng zhī pǎo le mǐ zé
5. 运 动 会 上 , 小 兔 跑 了 16 米 的 时 候 , 小 熊 只 跑 了 7 米 , 则
zhè yí duàn shí jiān nèi xiǎo xióng bǐ xiǎo tù shǎo pǎo le duō shǎo mǐ
这 一 段 时 间 内 , 小 熊 比 小 兔 少 跑 了 多 少 米 ?

$$\square \bigcirc \square = \square \text{ (米)}$$


答: 小熊比小兔少跑了____米。

- chē shàng yuán lái yǒu rén xià chē rén hòu xiàn zài chē shàng yǒu duō shǎo rén
6. 车 上 原 来 有 14 人 , 下 车 5 人 后 , 现 在 车 上 有 多 少 人 ?

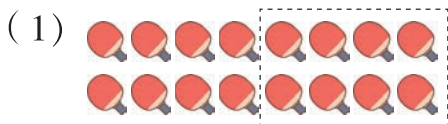
$$\square \bigcirc \square = \square \text{ (人)}$$

答: 现在车上有____人。


- qǐng nǐ kāi dòng xiǎo huǒ chē
7. 请 你 开 动 小 火 车 。



- qǐng nǐ kàn tú liè suàn shì jì suàn
8. 请 你 看 图 列 算 式 计 算 。



$$\square \bigcirc \square = \square \text{ (个)}$$



$$\square \bigcirc \square = \square \text{ (只)}$$

试 题 精 选

- xué xiào tǐ yù huó dòng shì yǒu gè zú qiú hé gè lán qiú jiè chū gè
9. 学 校 体 育 活 动 室 有 15 个 足 球 和 11 个 篮 球 , 借 出 3 个
lán qiú hòu zú qiú bǐ lán qiú duō duō shǎo gè
篮 球 后 , 足 球 比 篮 球 多 多 少 个 ?

$$\square \bigcirc \square = \square \text{ (个)}$$

$$\square \bigcirc \square = \square \text{ (个)}$$

答: 足球比篮球多____个。

- míng míng yuán lái yǒu zhī cǎi sè huà bǐ jiè gěi le yōu yōu zhī hòu liǎng gè
10. 明 明 原 来 有 15 支 彩 色 画 笔 , 借 给 了 悠 悠 6 支 后 , 两 个
rén de huà bǐ shù xiāng tóng yōu yōu yuán lái yǒu duō shǎo zhī huà bǐ
人 的 画 笔 数 相 同 , 悠 悠 原 来 有 多 少 支 画 笔 ?

$$\square \bigcirc \square = \square \text{ (支)}$$


$$\square \bigcirc \square = \square \text{ (支)}$$

答: 悠悠原来有____支画笔。

整理和复习

suàn yì suàn tú yì tú
1. 算一算，涂一涂。

得数大于或等于6的涂上红色，
得数小于6的涂上绿色。



zài kuò hào lǐ tián shàng huò
2. 在括号里填上“>”“<”或“=”。

$17-9 () 10-1$

$13-8 () 15-9$

$7+4 () 12-2$

$15-6 () 3+5$

$12-5 () 7+0$


$12-7 () 15-6$

gòu wù
3. 购物。

原有数量	14 只	17 支		11 个
卖出数量	5 只		3 辆	
还剩数量		9 支	8 辆	2 个

kàn tú liè shì jì suàn
4. 看图列式计算。

(1) 共有 13 根胡萝卜。



$\square \bigcirc \square = \square \text{ (根)}$

(2) 共有 15 块糖。



$\square \bigcirc \square = \square \text{ (块)}$

sòng xiǎo niǎo huí jiā lián yi lián
5. 送小鸟回家。(连一连)



$11-5$



$13-6$



$11-4$



$12-3$



$13-7$



$18-9$



6. 看图回答问题。

(1) 蝌蚪比虾多多少只?


$$\square \bigcirc \square = \square \text{ (只)}$$

答: 蝌蚪比虾多____只。

(2) 螃蟹比蝌蚪少多少只?

$$\square \bigcirc \square = \square \text{ (只)}$$

答: 螃蟹比蝌蚪少____只。



shù shàng hái yǒu duō shǎo zhī xiǎo niǎo

7. 树上还有多少只小鸟?



$$\square \bigcirc \square = \square \text{ (只)}$$

答: 树上还有____只小鸟。

xiǎo xióng wèi le chǔ bèi guò dōng de liáng shí zài dì lǐ shōu huò le 14 gè yù mǐ

8. 小熊为了储备过冬的粮食, 在地里收获了14个玉米,

tā yí cì zhǐ néng yùn 6 gè yùn guò yí cì hòu hái shèng duō shǎo gè
它一次只能运6个, 运过一次后还剩多少个?

$$\square \bigcirc \square = \square \text{ (个)}$$

答: 运过一次后还剩____个。

hǎi hai hé tāo tāo shōu jí yóu piào hǎi hai shōu jí le 12 zhāng tāo tāo zài shōu jí

9. 海海和涛涛收集邮票, 海海收集了12张, 涛涛再收集6

zhāng jiù bǐ hǎi hai duō 3 zhāng le tāo tāo yuán lái shōu jí le duō shǎo zhāng
张就比海海多3张了。涛涛原来收集了多少张?

$$\square \bigcirc \square = \square \text{ (张)}$$

$$\square \bigcirc \square = \square \text{ (张)}$$

答: 涛涛原来收集了____张。

huá huá hé fāng fāng liǎng gè rén gè yǒu 12 gè shū qiān rú guǒ huá huá jiāng zì jǐ

10. 华华和方方两个人各有12个书签, 如果华华将自己

de 4 gè shū qiān gěi fāng fāng nà me huá huá hé fāng fāng liǎng gè rén de shū qiān shù

liàng xiāng chà duō shǎo

量相差多少?

$$\square \bigcirc \square = \square \text{ (个)}$$

答: 华华和方方两个人的书签数量相差____个。

第二单元达标练习

1. 算一算。

$7+6=$	$9+5=$	$12-3=$	$11-9=$	$11-5+8=$
$9+9=$	$11-6=$	$7+6=$	$16-10=$	$5+7+2=$
$16-7=$	$10-5=$	$18-9=$	$14-7=$	$9-6+6=$
$8+7=$	$14-8=$	$6+0=$	$8-2=$	$15-8+9=$

2. 在 里填上 “>” “<” 或 “=”。

$15-9 \quad \text{ } \quad 6$

$16-8 \quad \text{ } \quad 4$

$17-9 \quad \text{ } \quad 19-10$

$17-7 \quad \text{ } \quad 5$

$10-6 \quad \text{ } \quad 11-7$

$12-7 \quad \text{ } \quad 13-9$

$16-8 \quad \text{ } \quad 14-8$

$14-9 \quad \text{ } \quad 17-6$

$16-7 \quad \text{ } \quad 18-8$

3. 请你观察下图，若每个学生要配一根跳绳，还差多少根？

$\square \bigcirc \square = \square \text{ (根)}$

答：还差_____根。




4. 看图列式计算。

(1) 一共有 15 块糖。



$\square \bigcirc \square = \square \text{ (块)}$

(2) 共有 11 个苹果。



$\square \bigcirc \square = \square \text{ (个)}$

5. 小象回家。



$$\begin{array}{ccccccc}
 15 \xrightarrow{-7} (&) & (&) \xrightarrow{+5} (&) \\
 \downarrow -3 & & \uparrow -6 & & \downarrow -4 \\
 (&) \xrightarrow{+9} (&) & (&) \xrightarrow{+2} (&) \xrightarrow{+5} (&)
 \end{array}$$



- měi zhī xiǎo tù zì chī yì gēn hú luó bo hái shèng jǐ gēn hú luó bo
6. 每只小兔子吃一根胡萝卜，还剩几根胡萝卜？

$$\square \bigcirc \square = \square \text{ (根)}$$

答：还剩____根胡萝卜。




- rú tú suǒ shì qǐng nǐ liè chū liǎng gè jiā fǎ suàn shì hé liǎng gè jiǎn fǎ suàn shì
7. 如图所示，请你列出两个加法算式和两个减法算式。

$$\square \bigcirc \square = \square$$

$$\square \bigcirc \square = \square$$

$$\square \bigcirc \square = \square$$

$$\square \bigcirc \square = \square$$



- wǒ men yào xué huì fēn xī shāi xuǎn yǒu yòng de xìn xī qǐng nǐ zài xià miàn de xìn xī zhōng xuǎn chū hé shì de liǎng gè rán hòu tí chū wèn tí bìng jiě dá
8. 我们要学会分析筛选有用的信息，请在下面的信息中选出合适的两个，然后提出问题并解答。

篮球比赛上，达达进了15个球；涛涛进了12个球；奇奇进了8个球；当当进了4个球。

问题：_____

解答：_____

- lì lì jiā de yǎng niú chǎng yí gòng yǒu dà xiǎo niú 15 tóu qí zhōng dà niú yǒu 9 tóu dà niú bǐ xiǎo niú duō duō shǎo tóu
9. 丽丽家的养牛场一共有大小牛15头，其中大牛有9头，大牛比小牛多多少头？

$$\square \bigcirc \square = \square \text{ (头)}$$

$$\square \bigcirc \square = \square \text{ (头)}$$

答：大牛比小牛多____头。

- xiǎo hú li xiǎo tù zi xiǎo xióng hé xiǎo sōng shǔ xiāng yuē yì qǐ qù cǎi mó gu xiǎo hú li cǎi le 16 gè mó gu xiǎo tù zi bǐ xiǎo hú li shǎo cǎi le 9 gè xiǎo xióng bǐ xiǎo tù zi duō cǎi le 7 gè xiǎo sōng shǔ bǐ xiǎo xióng shǎo cǎi le 5 gè zé xiǎo sōng shǔ cǎi le duō shǎo gè mó gu
10. 小狐狸，小兔子，小熊和小松鼠相约一起去采蘑菇。小狐狸采了16个蘑菇，小兔子比小狐狸少采了9个，小熊比小兔子多采了7个，小松鼠比小熊少采了5个，则小松鼠采了多少个蘑菇？

$$\square \bigcirc \square = \square \text{ (个)}$$

$$\square \bigcirc \square = \square \text{ (个)}$$

$$\square \bigcirc \square = \square \text{ (个)}$$

答：小松鼠采了____个蘑菇。